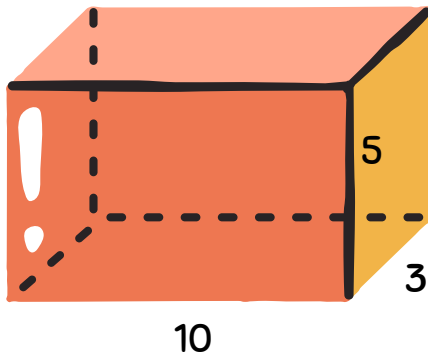


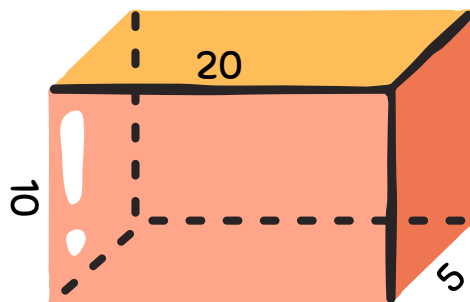


נפח תיבה

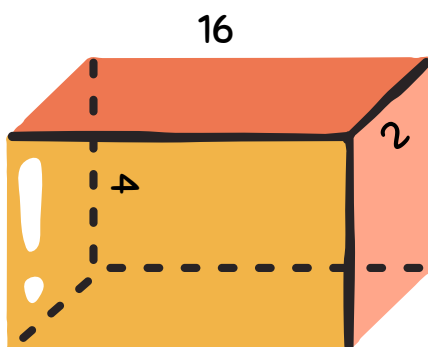
השלימו את הפרטים החסרים בטבלה. זיכרות: נפח = אורך X רוחב X גובה.



= אורך התיבה
= רוחב התיבה
= גובה התיבה
= נפח התיבה



= אורך התיבה
= רוחב התיבה
= גובה התיבה
= נפח התיבה



= אורך התיבה
= רוחב התיבה
= גובה התיבה
= נפח התיבה



מציאת נפח

השלימו את הנתון החסר בכל תיבה. תזכורת: נפח תיבה הוא מכפלת האורך, הרוחב, והגובה של התיבה.

3 ס"מ
3 ס"מ
3 ס"מ

נפח = _____

6 ס"מ
2 ס"מ
4 ס"מ

נפח = _____

___ ס"מ
2 ס"מ
2 ס"מ

נפח = 32 סמ"ק

___ ס"מ
5 ס"מ
2 ס"מ

נפח = 100 סמ"ק

___ ס"מ
10 ס"מ
3 ס"מ

נפח = 180 סמ"ק

8 ס"מ
5 ס"מ
2 ס"מ

נפח = _____